

# Graad 5 Wiskunde week 8

## MEMORANDUM WEEK 7



Merk asseblief die oefeninge. Jy mag enige kleur (behalwe rooi) gebruik!  
As daar iets is wat jy nie verstaan nie, maak asseblief 'n sterretjie daar dan sal ek  
as julle weer skool toe kom dit vir jou verduidelik.



Blaai na bladsy 132.

### 1. Hoe ver het elke kar gery? Voltooi die tabel.

	1 uur	2 uur	3 uur	4 uur
Pienk kar	100 km ✓	200 km ✓	300 km ✓	400 km ✓
Pers kar	50 km ✓	100 km ✓	150 km ✓	200 km ✓
Blou kar	120 km ✓	240 km ✓	360 km ✓	480 km ✓
Groen kar	80 km ✓	160 km ✓	240 km ✓	320 km ✓

Blaai na bladsy 133.

Hoeveel gaan jy betaal vir:

- a. 1 kg
- b. 2 kg
- c. 3 kg
- d. 4 kg
- e. 5 kg
- f. 6 kg
- g. 7 kg
- h. 8 kg
- i. 9 kg

j. 10 kg

Hoeveel gaan jy betaal vir:

- a. 1 ℓ
- b. 2 ℓ
- c. 3 ℓ
- d. 4 ℓ
- e. 5 ℓ
- f. 6 ℓ
- g. 7 ℓ
- h. 8 ℓ
- i. 9 ℓ

j. 10 ℓ

Blaai na bladsy 134.

## 1. Voltooi die tabelle.

a.

	Vind die veelvoude van die heelgetal 3							
Vermenigvuldiging:	1 x 3	2 x 3	3 x 3	4 x 3	5 x 3	6 x 3	7 x 3	8 x 3 ✓
Veelvoude van 3:	3	6	9	12	15	18	21	24 ✓
Oplossing:	Die veelvoude van 3 is: <u>3, 6, 9, 12, 15, 18, 21, 24 ✓</u>							

b.

	Vind die veelvoude van die heelgetal 8							
Vermenigvuldiging:	1 x 8	2 x 8	3 x 8	4 x 8	5 x 8	6 x 8	7 x 8	8 x 8 ✓
Veelvoude van 8:	8	16	24	32	40	48	56	64 ✓
Oplossing:	Die veelvoude van 8 is: <u>8, 16, 24, 32, 40, 48, 56, 64 ✓</u>							

c.

	Vind die veelvoude van die heelgetal 10							
Vermenigvuldiging:	1 x 10	2 x 10	3 x 10	4 x 10	5 x 10	6 x 10	7 x 10	8 x 10 ✓
Veelvoude van 10:	10	20	30	40	50	60	70	80 ✓
Oplossing:	Die veelvoude van 10 is: <u>10, 20, 30, 40, 50, 60, 70, 80 ✓</u>							

Blaai na bladsy 135.

**2. Wat is die eerste tien veelvoude van:**

a. 2 2, 4, 6, 8, 10, 12, 14, 16, 18, 20 ✓

b. 4 4, 8, 12, 16, 20, 24, 28, 32, 36, 40 ✓

c. 6 6, 12, 18, 24, 30, 36, 42, 48, 54, 60 ✓

d. 7 7, 14, 21, 28, 35, 42, 49, 56, 63, 70 ✓

e. 9 9, 18, 27, 36, 45, 54, 63, 72, 81, 90 ✓

f. 10 10, 20, 30, 40, 50, 60, 70, 80, 90, 100 ✓

**3. Beantwoord die volgende vrae aangaande veelvoude.**

a. Skryf die veelvoude van 3 vanaf 474 tot 483 neer.


474, 477, 480, 483 ✓

b. Skryf die veelvoude van 5 vanaf 718 tot 733 neer.

720, 725, 730 ✓

c. Watter van die volgende getalle in die raam is veelvoude van 3?

54, 72 ✓



Blaai na bladsy xiv.

1. Voltooi die getallebord. Ons het 'n paar vir jou gedoen.

a. Kleur al die veelvoude van 2 met geel in.

b. Omkring al die veelvoude van 3.

c. Trek 'n driehoek om die veelvoude van 4.

x	1	2	3	4	5	6	7	8	9
1	1	2	3	4	5	6	7	8	9 ✓
2	2	4	6	8	10	12	14	16	18 ✓
3	3	6	9	12	15	18	21	24	27 ✓
4	4	8	12	16	20	24	28	32	36 ✓
5	5	10	15	20	25	30	35	40	45 ✓
6	6	12	18	24	30	36	42	48	54 ✓
7	7	14	21	28	35	42	49	56	63 ✓
8	8	16	24	32	40	48	56	64	72 ✓
9	9	18	27	36	45	54	63	72	81 ✓

Die memorandum eindig hier!

# Tema: Geld

## Maandag

Hierdie oefening word in die Rooiboek gedoen.

Blaai na bladsy xxxii.

Langs nommer 1: Opskrif: Week 8

13-07-2020



Hierdie is jou verduideliking. Voltooi slegs die nommers wat verduidelik word.

By nommer a: Plus al die bedrae bymekaar.

By nommer b: Onthou dat een hemp R 50,00 kos.

By nommer c: Hier moet jy die totaal van die speelgoed wat verkoop is vat en kyk hoeveel R 50'de jy kan uithaal uit die bedrag.

By nommer d: Hier moet jy kyk hoeveel rand het jy nog nodig om nog 'n T- hemp te kan koop.



- 1 Jy en drie van jou maats het julle speelgoed bymekaar gesit, om dit te verkoop sodat julle sport T-hemde kan koop. Elke T-hemp kos R50.



a. Kyk hierbo. Dit is wat jy op die eerste dag verkoop het. Hoeveel het jy verkoop?

b. Hoeveel geld het jy nodig om al vier T-hemde te koop?

c. Hoeveel T-hemde kan jy na die eerste dag koop?

d. Hoeveel speelgoed moet jy nog verkoop voordat jy die T-hemde kan koop?

# Tema: Geldprobleme

## Dinsdag

Hierdie oefening word in die Rooiboek gedoen.

Blaai na bladsy xxxiii

Langs nommer 2: Opskrif: Week 8

14-07-2020



Hierdie is jou verduideliking. Voltooi slegs die nommers wat verduidelik word.

WENK: Jy kan die bedrae optel met enige metode wat jy verkies. Skryf die antwoord neer in die blokkie na elke dag.

In die tweede blok moet jy bereken hoeveel geld benodig julle nog om in totaal 4 hemde te koop.

Jy moet nommer 2 voltooi.



2. Julle het na 3 dae al die speelgoed verkoop. Jy het rekord gehou van wat julle verkoop het. Jy moet nou alles bereken.



Eerste dag	<p>Ek het verkoop:</p> $\begin{array}{r} R15,00 \\ R17,00 \\ + R25,00 \\ \hline \end{array}$	<p>Ek moet nog <input type="text"/> se speelgoed verkoop, om al die T-hemde te koop. Bereken dit hier.</p>
Tweede dag	<p>Ek het verkoop:</p> $\begin{array}{r} R25,00 \\ R35,00 \\ R8,00 \\ + R22,00 \\ \hline \end{array}$	<p>Ek moet nog <input type="text"/> se speelgoed verkoop, om al die T-hemde te koop. Bereken dit hier.</p>
Derde dag	<p>Ek het verkoop:</p>	<p>Het ons genoeg geld vir 4 T-hemde? Wys jou som hier.</p>

# Tema: Geldprobleme

## Woensdag

Hierdie oefening word in die Rooiboek gedoen.

Blaai na bladsy 100.

Langs nommer 1: Opskrif: Week 8

15-07-2020



Hierdie is jou verduideliking. Voltooi slegs die nommers wat verduidelik word.

By nommer 1: Daar is verskillende kombinasies om die bedrag jy kry.

By nommer 2: Hier moet jy mooi kyk om nie deurmekaar te raak met rand en sent nie.

Onthou dat 100c is gelyk aan R1

Jy kan sente skryf deur gebruik te maak van 'n "desimale komma"

Bv. 50c = R 0, 50

Jy moet nommer 1 en nommer 2 voltooi.



1. Kleur die kombinasie in wat jou die volgende som sal gee:

- a. R2    R1    R50    R2    R1    R5    R1
- b. R1    R0,50    R0,50    R0,20    R0,20    R0,20    R0,10
- c. R5    R0,50    R2    R1    R0,50    R0,50    R2    R0,50
- d. R3,50    R0,20    R2    R1    R0,20    R0,50    R2    R0,10
- e. R2,55    R1    R2    R1    R0,20    R0,50    R0,20    R0,10    R0,05

2. Hoeveel geld sal ek in totaal besit as ek die volgende bedrae spaar?

a.  $R2 + R1 + R5 + R20 =$

b.  $10c + 20c + 20c + 5c =$

c.  $50c + 20c + 50c + 5c + 10c =$



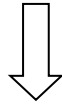
d.  $5c + R5 + 20c + R1 + R2 + 50c =$

e.  $50c + 20c + 5c + R5,50 + 10c + 65c + R10 =$

# Kry jou bladsye gereed

Jy gaan vandag gebruik om net jou blaai gereed te kry om in jou boek te plak vir wanneer jy terug kom!

Knip al jou blaie hier langs die rooilyn af.



Knip die boonste gedeelte ook af van al jou blaie.





Jy moet asseblief seker  
maak dat ALLE werk van  
week 1 tot week 7  
volledig gemerk is.  
Dit sluit die Rooiboek ook  
in!

Sien julle binnekort!

